

29. ВЕЛИКОЕ ПОСОЛЬСТВО



1. Установите соответствие: к каждому отрывку из «Истории России...» С.М. Соловьёва подберите цифру на карте, обозначающую описываемое в тексте. Правильно выполнив задание, вы получите название профессии Петра I в Голландии.

К. «Пётр в Галиции, близ местечка Равы, встретился с новым королём польским Августом II, и между прочими разговорами была речь у них о взаимной помощи... Но понятно, что от этого летучего разговора до союза было ещё очень далеко: „И так друг другу обязались крепкими словами о дружбе, без письменного обязательства и разъехались”».

П. «Желание Петра осмотреть рижские укрепления не могло не возбудить подозрительности губернатора... Но легко понять, как эта подозрительность и недопущение осмотреть город должны были раздражить Петра при его нетерпеливости все сейчас осмотреть, при его непривычке к бездействию, при его непривычке встречать препятствия своим желаниям».

Т. «...Не одним кораблестроением занимался Пётр в Голландии... Витзен должен был водить его всюду, всё показывать — китовый флот, госпитали, воспитательные дома, фабрики, мастерские; особенно понравилось ему в анатомическом кабинете профессора Рюйша... он так увлёкся, что поцеловал отлично приготовленный труп ребёнка, который улыбался как живой».

Н. «Пётр переехал... в Англию и скоро из Лондона перебрался в городок Дептфорд, где на королевской верфи занимался окончанием науки. Здесь он приговорил [нанял] до 60 человек иностранцев, мастеров золотых дел, в то же время послы в Голландии приговорили более 100 человек...»

О. «Пётр решился... ехать далее на запад. К нему навстречу спешили две образованнейшие женщины Германии: курфюрстина ганноверская София и дочь её курфюрстина бранденбургская София Шарлотта. Пётр выбрался за границу, чтоб посмотреть на диковины цивилизации, понаучиться многому; цивилизованная Европа выслала двух своих представительниц со своей стороны посмотреть на Петра...»

И. «Пётр, осмотрев всё замечательное в Вене... собрался уже в Венецию, как почта привезла письма из Москвы: Ромодановский писал, что стрельцы взбунтовались и идут к Москве. Вместо Венеции Пётр отправился в Россию».

Л. «Пётр... был отлично принят в Кенигсберге курфюрстом Фридрихом III. В ожидании великих послов... Пётр не терял времени и стал учиться артиллерии; учитель, подполковник фон Штернфельд, дал благопомянутому господину Петру Михайлову свидетельство, „что он в непродолжительное время, к общему изумлению, такие оказал успехи и такие приобрёл сведения, что везде за исправного, осторожного благоискусного, мужественного и бесстрашного огнестрельного мастера и художника признаваем и почитаем быть может”».

Ответ:

Цифры на карте	1	2	3	4	5	6	7
Отрывки							

2. Какие пять стран посетил Пётр I в ходе Великого посольства? Запишите соответствующие цифры.

- | | |
|------------------------|----------------------|
| 1) Австрийская империя | 6) Нидерланды |
| 2) Англия | 7) Османская империя |
| 3) Дания | 8) Пруссия |
| 4) Испания | 9) Речь Посполитая |
| 5) Италия | 10) Франция |

Ответ:

--	--	--	--	--

30. СЕВЕРНАЯ ВОЙНА



1. Определите, какие события в ходе Северной войны обозначены на карте цифрами (события даны в хронологической последовательности).

2. Установите соответствие: к каждому отрывку из «Истории России...» С.М. Соловьёва подберите условное обозначение, изображающее описываемое в тексте.

А. «В IX в. по Р. Х. устьем Невы начинался великий путь „из варяг в греки“; этим путём в половине века началась Россия... 16 мая 1703 г. на одном из островков Невского устья стучал топор, рубили деревянный городок».

Б. «Когда шведы ворвались в лагерь, в рядах испуганных русских солдат раздались крики: „Немцы изменили!“ Эти страшные крики отняли последние силы, и все бросились бежать».

В. «Договор состоял из следующих статей... 4) С шведской стороны уступаются царскому величеству и его преемникам в полное, неотрицаемое, вечное владение и собственность завоёванные царского величества оружием провинции... со всеми... правами и доходами».

Г. «Самую большую радость доставила Петру победа, которую он сам одержал над шведским флотом... неприятельский контр-адмирал Эреншельд с фрегатом и десятью галерами попался в плен».

Д. «Несмотря на присутствие в Балтийском море английской эскадры, русские войска опустошили шведские берега, а в конце июля князь Мих. Мих. Голицын разбил шведскую эскадру».

Е. «Пётр повёл войско к... древнему новгородскому Орешку на Невском протоке... После отчаянного сопротивления 11 октября комендант принужден был сдать город...»

Ж. «Страшная потеря состояла в том, что Левенгаупт явился к Карлу без военных и съестных припасов, на которые была такая надежда в главной армии шведской; наконец, битва... имела ещё то печальное следствие для шведских солдат, что они потеряли прежнюю самоуверенность...»

З. «Усталые, волнующие не испытанными никогда ощущениями, царь, генералы и офицеры после молебна сели в палатках обедать. Светлое чувство неизмеримой радости не допускало никаких тёмных чувств: всех сюда! и пленных шведских генералов усадили за стол...»

Запишите в таблицу выбранные цифры под соответствующими буквами.

Ответ:

А	Б	В	Г	Д	Е	Ж	З

3. Установите соответствие между местами сражений и их особенностями. К каждой позиции первого столбца подберите соответствующую позицию второго столбца.

Место сражения

- А) Нарва
- Б) Гангут
- В) Полтава
- Г) Лесная

Особенности

- 1) первая крепость, взятая русскими войсками в ходе Северной войны
- 2) первая крупная победа русских над шведской регулярной армией в полевом сражении
- 3) первая крупная морская победа России
- 4) разгром русской армии Карлом XII
- 5) разгром русской армией Карла XII

Запишите в таблицу выбранные цифры под соответствующими буквами.

Ответ:

А	Б	В	Г

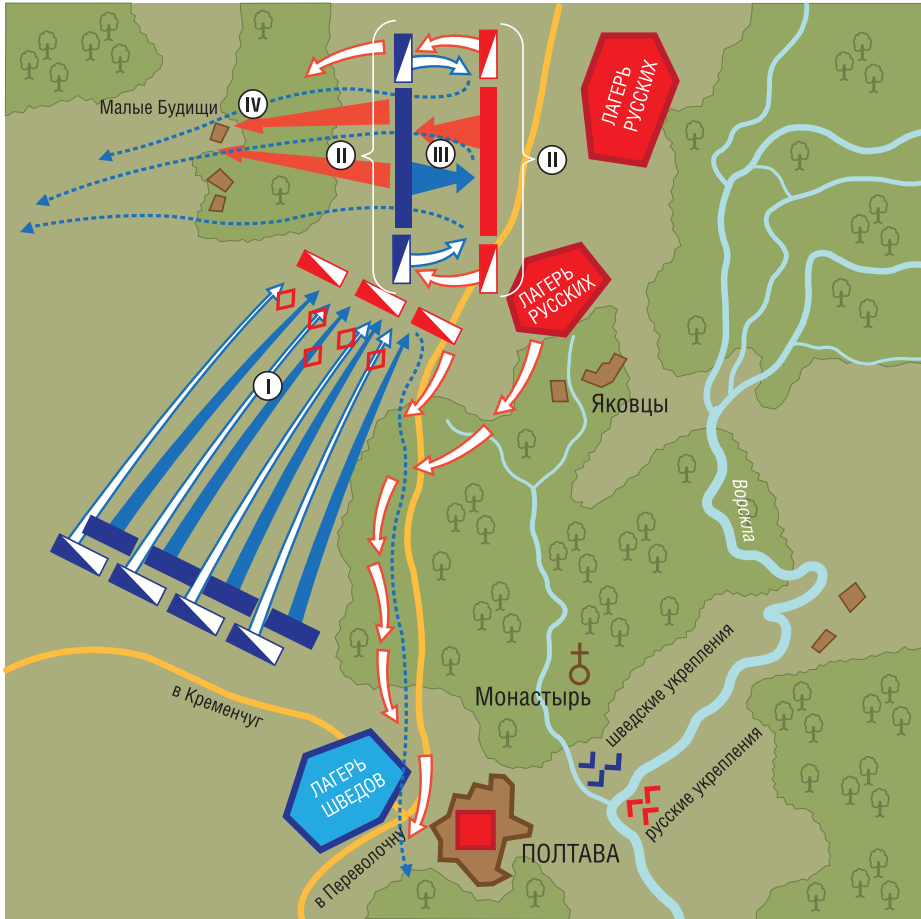
4. Какие три территории вошли в состав России по итогам Северной войны? Запишите соответствующие цифры.

- 1) Восточная Пруссия
- 2) Курляндия
- 3) Лифляндия
- 4) устье Невы
- 5) Финляндия
- 6) Эстляндия

Ответ:

--	--	--

31. ПОЛТАВСКАЯ БИТВА



С помощью карты назовите этапы Полтавской битвы и определите, о каких этапах идёт речь в историческом описании сражения и в поэме А.С. Пушкина «Полтава». Заполните таблицу.

№ на карте	Этап сражения	Историческое описание	Поэма А.С. Пушкина «Полтава»

Историческое описание

1. Король Карл попытался одним ударом прорвать центр русских войск. И шведам удалось бешеной атакой прорвать первую линию, состоявшую из солдат Новгородского полка. Пётр I лично повёл батальон второй линии в контратаку. На месте прорыва завязался упорный рукопашный бой, который вскоре стал всеобщим.

2. Основные силы обеих армий построились в боевые порядки. Пётр приказал вывести из лагеря 42 пехотных батальона, расположив их в центре построения. Между боевыми порядками пехоты и перед фронтом разместилась артиллерия, на флангах — драгуны. Армия была построена в две линии. В боевой порядок построилась и шведская армия.

3. Шведы не смогли подойти незамеченными к русскому лагерю. Русские войска встретили подошедших в три часа ночи шведов интенсивным огнём. Но шведская кавалерия потеснила русских драгун, а пехота прорвалась за линию редутов. Однако, оказавшись без поддержки артиллерии, шведы понесли огромные потери; русские пушки расстреливали их в упор и с флангов. Когда Пётр велел отвести конницу с поля боя, шведы приняли это за отступление, бросились её преследовать и попали под огонь русских орудий. Шведы понесли существенные потери и были вынуждены отойти за пределы досягаемости ружейного и пушечного огня.

4. Яростная схватка принесла успех русским, и они усилили натиск по всему фронту. Огромное опустошение рядов атакующих шведов производила артиллерия. Бросившись в атаку, русская конница прогнала шведскую кавалерию с поля боя. Примерно за два часа ожесточённого боя по всей линии шведская армия была разбита. Карл XII, сколько ни призывал бегущих остановиться, не смог предотвратить паники.

Поэма А.С. Пушкина «Полтава»

1. И грянул бой, Полтавский бой!
В огне, под градом раскалённым,
Стеной живою отражённым,
Над падшим строем свежий строй
Штыки смыкает. Тяжкой тучей
Отряды конницы летучей,
Браздами, саблями звуча,
Сшибаясь, рубятся сплеча.

2. Но близок, близок миг победы.
Ура! мы ломим; гнутся шведы.
О славный час! о славный вид!
Ещё напор — и враг бежит.
И следом конница пустилась,
Убийством тупятся мечи,
И падшими вся степь покрылась
Как роем чёрной саранчи.

3. Полки ряды свои сомкнули.
В кустах рассыпались стрелки.
Катятся ядра, свищут пули;
Нависли хладные штыки.
Сыны любимые победы,
Сквозь огонь окопов рвутся шведы...
И битвы поле роковое
Гремит, пылает здесь и там,
Но явно счастье боевое
Служить уж начинает нам.

4. Уж близок полдень. Жар пылает.
Как пахарь, битва отдыхает.
Кой-где гарцуют казаки.
Равняясь, строятся полки.
Молчит музыка боевая.
На холмах пушки, присмирив,
Прервали свой голодный рев.
И се — равнину оглашая,
Далече грянуло ура:
Полки увидели Петра.

32. ЮЖНЫЕ ПОХОДЫ РУССКОЙ АРМИИ В КОНЦЕ XVII — НАЧАЛЕ XVIII В.



1. Определите, что обозначено в легенде к карте цифрами. В случае затруднений используйте материал следующего задания.

2. Установите соответствие: к каждому отрывку из «Истории России...» С.М. Соловьёва подберите условное обозначение, изображающее описываемое в тексте. Расставьте события в хронологической последовательности.

А. «Голицын стоял у Перекопи: надобно было брать крепость, а войско уже двое суток было без воды; спешили к Перекопи, думая, что тут-то будет конец лишениям, и что же увидели? С одной стороны Чёрное море, с другой Гнилое, везде вода солёная, колодцев нет, лошади падают, ещё несколько дней — и как будет отступать, на чём везти наряд? Чтоб возвратиться с чем-нибудь назад, Голицын завёл мирные переговоры с ханом... но переговоры затянулись, а Голицыну ждать было больше нельзя, и он повернул назад без мира».

Б. «Флот был построен: 2 корабля, 23 галеры и 4 брандера. С первых чисел апреля начали спускать суда на воду; в этом занятии прошла Святая неделя... Между тем ещё в марте пришли один за другим в Воронеж и полки, которые должны были садиться здесь на струга».

В. «Русский флот загородил дорогу турецкому в устьях Дона... Всем войскам велено было готовиться к приступу; но турки не стали дожидаться его и 18 июля объявили готовность сдаться, выговаривая себе позволение выйти из города в полном вооружении, с жёнами, детьми и пожитками. Условие было принято».

Г. «Положено было отступить, и рано утром двинулись назад вверх по Пруту, неприятельская конница преследовала отступавших, но без пользы для себя. 9 июля пополудни войско достигло места, носившего название *Новое Станелище*: здесь расположили обоз к реке, и войско стало около него в линию... Турецкая пехота и конница наступала *прежесток*... Положение русского войска было отчаянное...»

Д. «Матюшкин высадил войско, прогнал персиян, хотевших помешать высадке, и начал готовиться к приступу, но бакинцы поспешили сдать город. Оставивши в Баку комендантом бригадира князя Барятинского, Матюшкин отплыл назад, в Астрахань. Пётр очень обрадовался взятию Баку».

Е. «Два штурма не удались. 27 сентября решено отступить от Азова... Неудача страшная: первое дело молодого царя не было благословено успехом!.. Но тут-то благодаря этой неудаче и произошло явление великого человека. Пётр не упал духом, но вдруг вырос от беды и обнаружил изумительную деятельность, чтоб загладить неудачу... С неудачи азовской начинается царствование Петра Великого».

Запишите в таблицу выбранные цифры под соответствующими буквами.

Ответ:

А	Б	В	Г	Д	Е

3. Заполните таблицу. (Линии сравнения: «Названия походов», «Годы», «Основной противник», «Цели России», «Военный результат», «Политический результат».)

Линии сравнения	Походы (разместить слева направо в соответствии с географическим расположением с запада на восток)			

4. Какое побережье сохранилось за Россией к концу правления Петра I?

- 1) выход к Азовскому морю
- 2) западный берег Каспийского моря
- 3) западный берег Чёрного моря
- 4) северный берег Чёрного моря

Ответ: _____

33. СОЦИАЛЬНО-ЭКОНОМИЧЕСКОЕ РАЗВИТИЕ РОССИИ В ПЕРВОЙ ЧЕТВЕРТИ XVIII В.



1. Определите, что обозначено в легенде к карте цифрами. В случае затруднений используйте материал следующего задания. Почему границы района, обозначенного в легенде цифрой 5, выходят на карте за пределы России?

2. Установите соответствие: к каждому отрывку из источников и исторических сочинений подберите условное обозначение, изображающее описываемое в тексте.

А. «Башкирское воровство умножается, и татары Казанского уезда многие пристали, и многие пригородки закамские, также и на казанской стороне Камы-реки дворцовое село Елабугу осадили, и из тех пригородков Заинск, который от Казани расстоянием 200 вёрст, сожгли и людей порубили...» (из письма казанского вице-губернатора Кудрявцева Петру I).

Б. «В лесных местах, ближайших к Дону, в Воронеже, Козлове, Добром и Сокольске, 26 000 работников должны были к весне срубить

1300 стругов, 300 лодок, 100 плотов. Адмиралом зачинавшегося флота был назначен Лефортов...» (из «Истории России...» С.М. Соловьёва).

В. «Завод суконный размножить не в одном месте, так чтоб в пять лет не покупать мундира заморского, и, заведчи, дать торговым людям, собрав кумпанию, буде волею не похотят, хотя в неволю, а за завод деньги брать погодно с лёгкостью, дабы ласковой им в том деле промышленя было» (из указа Петра I Сенату).

Г. «Вор Булавин Черкасской взял и старшин пяти человек побил до смерти и писал в Азов войсковую отписку, что они ничего противного чинить не будут; однако ж чаю, сие оной дьявол чинит, дабы оплошиться в Азове и тайно возмутить» (из письма Петра I А.Д. Меншикову).

Д. «На торгу прошла молва, что запрещено будет играть свадьбы семь лет, а дочерей и сестёр велено будет выдавать замуж за немцев, которых пришлют из Казани. Астраханцы пришли в ужас и решились выдать своих девиц как можно скорее замуж до указа, чтоб потом не выдавать их за немцев. 29 июля, в воскресенье, было сыграно свадеб со сто; на каждой не обошлось без пира; разгорячённых вином легко было поднять на бунт...» (из «Истории России...» С.М. Соловьёва).

Е. «Пётр, отдавая хлеба-соли, разговорился с [искусным оружейником] Антуфьевым и спросил его, не возьмётся ли он устроить в Туле ружейный завод, о котором царь давно мечтал, и много ли потребуются денег на это предприятие. Антуфьев попросил пяти тысяч. Они были ему немедленно выданы из казны, и он приступил к делу в добрый час. Завод был выстроен, пущен и стал снабжать ружьями нашу армию» (из преданий о Демидовых и Демидовских заводах).

3. Какие три отрасли промышленности наиболее успешно развивались в России в первой четверти XVIII в.? Запишите соответствующие цифры.

- 1) металлургия и металлообработка
- 2) нефтедобыча и нефтепереработка
- 3) пищевая промышленность
- 4) производство предметов роскоши
- 5) судостроение
- 6) текстильная промышленность

Ответ:

4. Какие три территории были охвачены массовыми народными восстаниями в первой четверти XVIII в.? Запишите соответствующие цифры.

- | | |
|-----------------------------|--------------------|
| 1) Башкирия | 4) Нижнее Поволжье |
| 2) Донской край | 5) Подмосковьё |
| 3) Север Европейской России | 6) Сибирь |

Ответ:

34. ДВОРЦОВЫЕ ПЕРЕВОРОТЫ: ИСТОРИЯ И ГЕОГРАФИЯ



1. Определите, какие переезды отражены на карте. Какой переезд **не связан** с политической борьбой в период дворцовых переворотов? В случае затруднений используйте материалы следующего задания.

2. Установите соответствие: к каждому отрывку из «Истории России...» С.М. Соловьёва подберите цифру на карте, обозначающую описываемое в тексте. Правильно выполнив задание, вы получите название влиятельного лица в эпоху дворцовых переворотов, пользующегося благосклонностью правителя.

Р. «9 февраля Остерман объявил в Верховном тайном совете, что его императорское величество изволил о князе Меншикове разговаривать, чтоб его куда-нибудь послать, а пожитки его взять... Из Верховного тайного совета был дан указ Сенату о посылке Меншикова с семейством в Берёзов...»

О. «Манифест обращается к сравнению Бирона с Годуновым и обвиняет герцога Курляндского в невинном пролитии крови и в мучительном заточении многих знатных особ духовного и светского чина, обвиняет в коварствах и интригах, направленных против родителей императора... Бирон был сослан в Пельым, где для него был выстроен дом...»

А. «Елисавета... послала в Киль за племянником своим, молодым герцогом Голштинским... За ним был отправлен майор барон Николай Фридрих Корф, который благополучно и привёз герцога в Петербург...»

Ф. «Императрица... хотела как можно скорее устроить брак наследника престола великого князя Петра Фёдоровича. Но легко понять, как важен был вопрос о выборе невесты и для своих, и для чужих... 3 февраля 1744 года принцесса Цербстская с дочерью приехала в Петербург».

И. «Анна Леопольдовна и муж её не знали, что их везут в Соловки, думали, что местом ссылки их будет Пелым, где прежде был Бирон. В октябре они приехали к беломорскому берегу, но за льдом в это время года нельзя было проехать в Соловки, и Корф остановился в Холмогорах, где архиерейский дом был очень удобен для помещения. Он настоял, чтобы ссыльных оставить навсегда в Холмогорах».

Т. «Нам неизвестно время рождения отца русской науки и литературы... он и сам с точностью не мог определить этого времени, но нам известно место его рождения: поморская, или беломорская, страна пустынная, холодная, но прилегавшая к морю, которое принадлежало Европе, на котором появлялся европейский корабль... Богатырь не усидит в отцовском доме; его тянет на подвиг... Богатырь уходит из дому — в Москву».

В. «10 февраля получено было известие, что императрица уже недалеко от Москвы... Архиереи и сенаторы нашли Анну в Чашниках, и, в то время как они её приветствовали, сопровождавший её князь Василий Лукич Долгорукий зорко оглядывал их с ног до головы. В тот же день Анна приехала в село Всесвятское под Москвою и здесь остановилась, давши приказание похоронить на другой день Петра II».

Ответ:

Цифры на карте	1	2	3	4	5	6	7
Отрывки							

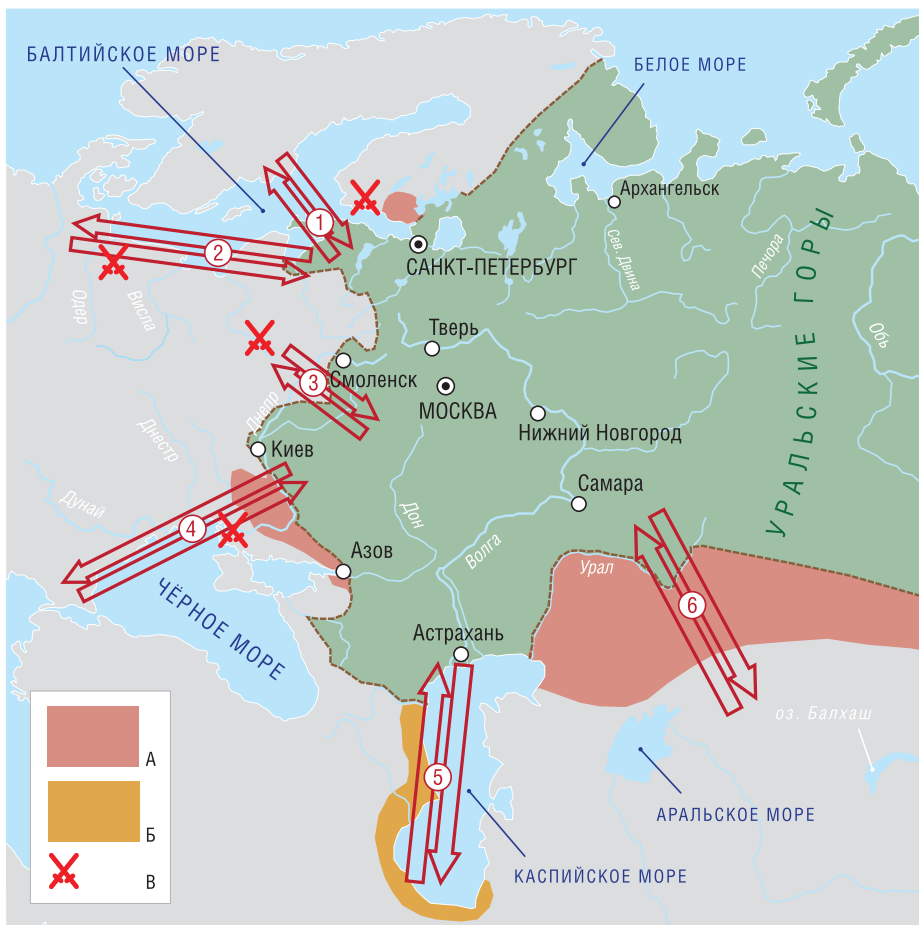
3. Расставьте маршруты 1—5 на карте в правильной хронологической последовательности.

4. Какое из перечисленных событий произошло в Москве?

- 1) отказ Анны Иоанновны от соблюдения кондиций
- 2) свержение Ивана VI и вступление на престол Елизаветы
- 3) отстранение от власти и ссылка Бирона
- 4) свержение и убийство Петра III

Ответ: _____

35. ВНЕШНЯЯ ПОЛИТИКА ЭПОХИ ДВОРЦОВЫХ ПЕРЕВОРОТОВ



1. Отношения России с какими государствами и народами обозначены на карте цифрами? Что обозначено в легенде к карте буквами?

2. Используя результаты выполнения предыдущего задания и дополнительную информацию, заполните таблицу.

№ на карте	Страна (народ)	Цели России	Название войны (если была)	Результаты дипломатии и войн

3. О каких войнах идёт речь в энциклопедических справках?

А. «В войне приняли участие, с одной стороны, Россия, Австрия и Саксония, с другой — Франция, Испания, Сардиния и Бавария. Поводом послужило избрание короля Польши после смерти Августа II.

Франция выдвинула кандидатуру Станислава Лещинского. Россия и Австрия поддержали кандидатуру саксонского курфюрста Августа. Сейм в Варшаве избрал королём Лещинского. Россия ввела в Польшу войска и смогла настоять на своей кандидатуре».

Б. «Швеция решила воспользоваться неустойчивым положением регентши Анны Леопольдовны и объявила войну России. Но русская армия вскоре пересекла границу и развернула наступление в южной Финляндии. После восшествия на престол Елизаветы Россия прекратила военные действия и вступила в мирные переговоры, однако требования шведов о пересмотре Ништадтского мира привели к их провалу. Русские войска возобновили наступление, и шведы потеряли большую часть Финляндии. В итоге Швеция пошла на заключение Абоского мира, по которому она уступила России юго-восточную Финляндию».

В. «Война коалиции Австрии, России, Франции, Саксонии, Швеции и Испании против Пруссии и Великобритании. В ходе войны русские войска нанесли ряд крупных поражений прусским войскам, в том числе разгромили армию короля Фридриха II Великого в битве при Кунерсдорфе и вошли в Берлин. Однако после смерти императрицы Елизаветы новый император Пётр III приостановил военные действия против Пруссии и заключил с Фридрихом II мирный договор, вернув ему всё завоёванное русскими».

Г. «Возвращение правительством Анны Ивановны Ирану западного и южного побережья Каспийского моря и заключение русско-иранского союза вызвали резкое обострение русско-турецких отношений. Вторжение в российские владения крымских татар спровоцировало новую войну, в которой союзниками России выступили Иран и Австрия. В ходе войны русские войска одержали ряд убедительных побед и вошли в Крым. Но заключение Австрией сепаратного мира с Османской империей вынудило Россию подписать невыгодный для неё Белградский мир: она получила только небольшую территорию на правом берегу Днепра и Азов».

4. Какие три территории приобрела и закрепила за собой Россия в период дворцовых переворотов? Запишите соответствующие цифры.

- | | |
|---------------------------------|--------------------------|
| 1) Азов и окрестности | 4) Лифляндия и Эстляндия |
| 2) Восточная Пруссия | 5) Северный Казахстан |
| 3) южный берег Каспийского моря | 6) часть Финляндии |

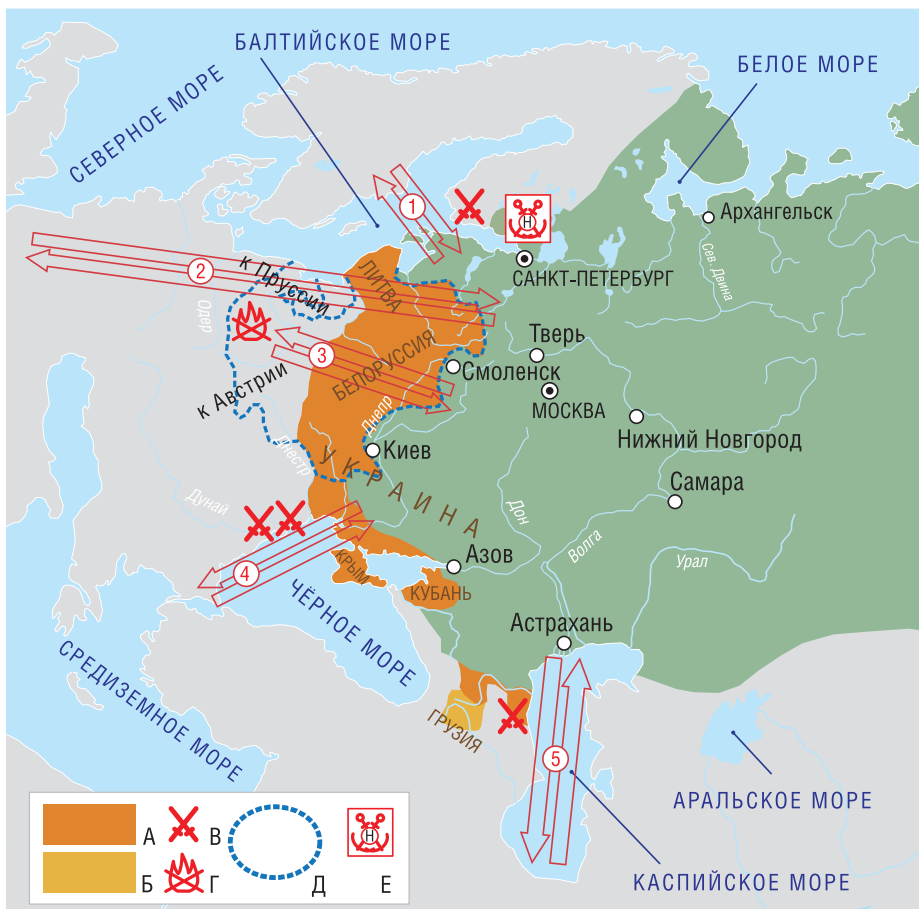
Ответ:

5. С какими тремя странами воевала Россия в эпоху дворцовых переворотов? Запишите соответствующие цифры.

- | | |
|----------------------|------------|
| 1) Австрия | 4) Персия |
| 2) Дания | 5) Пруссия |
| 3) Османская империя | 6) Швеция |

Ответ:

36. ОСНОВНЫЕ НАПРАВЛЕНИЯ ВНЕШНЕЙ ПОЛИТИКИ ЕКАТЕРИНЫ II



1. Отношения России с какими государствами и народами обозначены на карте цифрами? Что обозначено в легенде к карте буквами? Используйте в качестве подсказки справочные тексты.

1. «В феврале 1780 г. Екатерина II опубликовала Декларацию о вооружённом нейтралитете. Декларация провозглашала, что всякое нейтральное судно находится под защитой всех нейтральных государств и имеет право защищать себя оружием. ...Этот акт был направлен в первую очередь против Англии, стремившейся хозяйничать в международных водах. К декларации присоединилось большинство государств. Это повлекло отказ Англии от попыток организовать морскую блокаду Америки».

2. «По Георгиевскому трактату 1783 г. царь Ираклий II признавал покровительство России и частично отказывался от самостоятельной внешней политики, обязываясь своими войсками служить российской императрице. Екатерина II со своей стороны выступала гарантом неза-

висимости и целостности территорий Картли-Кахетии. Грузии предоставлялась полная внутренняя самостоятельность».

2. Используя результаты выполнения предыдущего задания и дополнительную информацию, заполните таблицу.

№ на карте	Страна (народ)	Цели России	Название войны (если была)	Результаты дипломатии и войн

3. О каких событиях идёт речь в энциклопедических справках?

А. «В 1794 г. вспыхнуло национально-освободительное восстание под предводительством Т. Костюшко. Повстанцы одержали ряд побед над русскими войсками. Однако затем Костюшко попал в плен, а на подавление восстания Екатерина II направила армию А.В. Суворова».

Б. «В ходе обеих войн русские армия и флот одержали выдающиеся победы над противником. По итогам первой войны Крым был объявлен независимым государством, а Россия получила ряд стратегически важных приграничных территорий. Вторая война окончательно закрепила за Россией Северное Причерноморье».

В. «Война была вызвана желанием противника взять реванш за поражения в двух войнах с Россией в XVIII в. Однако значительными силами для наступления противник не располагал. Россия же вела оборонительную войну, и, кроме того, основные силы русской армии вели боевые действия на юге против Османской империи. После двух лет крайне вялых военных действий был заключён мир, подтвердивший прежнюю границу».

4. Какие пять территорий **непосредственно** вошли в состав Российской империи в период правления Екатерины II? Запишите соответствующие цифры.

- | | |
|----------------------|---------------------------|
| 1) Белоруссия | 6) Левобережная Украина |
| 2) Восточная Грузия | 7) Литва |
| 3) Восточная Пруссия | 8) Правобережная Украина |
| 4) Крым | 9) Финляндия |
| 5) Кубань | 10) Эстляндия и Лифляндия |

Ответ:

5. Какие три государства участвовали в разделе Речи Посполитой? Запишите соответствующие цифры.

- | | |
|------------------------|--------------------------|
| 1) Австрийская империя | 4) Османская империя |
| 2) Королевство Пруссия | 5) Российская империя |
| 3) Королевство Швеция | 6) Украинское гетманство |

Ответ:

37. РУССКО-ТУРЕЦКИЕ ВОЙНЫ ПРИ ЕКАТЕРИНЕ II



1. С помощью карты определите основные сражения первой и второй русско-турецких войн, места заключения мирных договоров и территориальные приобретения России по итогам войн. Заполните таблицу. Какие территории Россия приобрела мирно между двумя войнами?

Войны	Сражения		Миры	Территории
	на суше	на море		
Первая				
Между войнами				
Вторая				

2. Определите, к каким войнам относятся отрывки из исторических источников, заполните таблицу.

А. «Видя много сильного неприятеля подступившего к Кинбурну на одну версту, решил я дать баталию!.. Позвольте, светлейший князь, донести — и в низшем звании бывает герой... Шлиссельбургского полку гренадер Степан Новиков, на которого уже сабля взнесена была в близости моей, обратился на своего противника, умертвил его штыком, другого за ним, следующего застрелил и бросаясь на третьего, — они побежали назад...» (из донесения А.В. Суворова Г.А. Потёмкину).

Б. «Все [крымско-]татарские народы... имеют быть признаны вольными и совершенно независимыми от всякой посторонней власти, но пребывающими под самодержавною властью собственного их хана Чингисского поколения» (из мирного договора).

В. «Июля 29 со флотом, мне вверенным, вышел я на море... для поисков флота неприятельского... 31 числа усмотрел оный, стоящий на якоре в линии при Калиакрии против мыса Калерах-Бурну под прикрытием сделанной на оном береговой батареи. Я со флотом под выстрелами оной прошёл близ самого берега и... спешил атаковать» (из донесения Ф.Ф. Ушакова).

Г. «Мой флот... под команду графа Алексея Орлова, разбив неприятельский флот, сжёг его совершенно при порте Чесменском... Около ста кораблей разного рода превратились в прах... Я всегда говорила: эти герои рождены для великих дел...» (из письма Екатерины II Вольтеру).

Д. «Не бывало крепости крепче, не было обороны отчаяннее обороны Измаила, но Измаил взят» (из донесения А.В. Суворова Г.А. Потёмкину).

Е. «Ныне обе договаривающиеся Империи между собою согласились и постановили, что между Империей Всероссийскою и Портою Оттоманскою пребудет границею река Днестр» (из мирного договора).

Ж. «Разбивши при реке Ларге 7-го числа сего месяца хана Крымского Каплан-Гирея и трёх турецких пашей... шёл я с армией за сим бегущим неприятелем, стараясь его достигнуть новым поражением... 21 июля учредил я к атаке неприятеля вести свои войска...» (из реляции П.А. Румянцева Екатерине II).

Ответ:

	Первая война	Вторая война
Сражения на суше	Военачальник:	Военачальник:
Сражения на море	Военачальник:	Военачальник:
Мирные договоры	Место:	Место:

38. ВОССТАНИЕ ПОД ПРЕДВОДИТЕЛЬСТВОМ Е.И. ПУГАЧЁВА



1. Что обозначено в легенде к карте цифрами?

2. С помощью карты расставьте отрывки из «Истории Пугачёва» А.С. Пушкина в правильной хронологической последовательности, заполните таблицу. Правильно выполнив задание, вы получите имя одного из ближайших сподвижников Пугачёва.

У. «Пугачёв два дня бродил то в одну, то в другую сторону, обманывая тем высланную погоню. <...> Несколько сотен беглецов присоединились к Пугачёву. 18 июля он вдруг устремился к Волге, на Кокшайский перевоз, и в числе пятисот человек лучшего своего войска переправился на другую сторону. Переправа Пугачёва произвела общее смятение. Вся западная сторона Волги восстала и передалась самозванцу».

О. «Пугачёв потерял последние пушки, четыреста человек убитыми и три тысячи пятьсот взятыми в плен... Он с четырьмя заводскими му-

жиками бежал к Пречистенской, и оттоле на уральские заводы. Усталая конница не могла его достичь».

Ш. «Пугачёв не имел уже намерения идти на старую столицу. Окружённый отовсюду войсками правительства, не доверяя своим сообщникам, он уже думал о своём спасении... Пугачёв бежал; но бегство его казалось нашествием. Никогда успехи его не были ужаснее, никогда мятеж не свирепствовал с такою силою».

Х. «Сперва дело шло о побеге в Турцию: мысль, издавна общая всем недовольным казакам... Но яицкие заговорщики слишком привязаны были к своим богатым, родимым берегам. Они, вместо побега, положили быть новому мятежу. Самозванство показалось им надёжною пружиною... Выбор их пал на Пугачёва. Им не трудно было его уговорить».

П. «Город стал добычею мятежников. Они бросились грабить дома и купеческие лавки; вбегали в церкви и монастыри, обдирали иконостасы; резали всех, которые попадались им в немецком платье... Осаждавшие крепость им завидовали, боясь остаться без добычи... Из города погнали пленных и повезли добычу. Башкирцы, несмотря на строгие запрещения Пугачёва, били нагайками народ и кололи копьями отстающих женщин и детей. Множество потонуло, переправляясь в брод через Казанку».

Л. «С каждым днём силы Пугачёва увеличивались. Войско его состояло уже из двадцати пяти тысяч; ядром оно были яицкие казаки и солдаты, захваченные по крепостям... Бердская слобода была вертепом убийств и распутства... Смельчаки подъезжали к рогаткам оренбургским; иные, наткнув шапку на копьё, кричали: „Господа казаки! пора вам одуматься и служить государю Петру Фёдоровичу!“»

А. «Сражение продолжалось недолго. Несколько пушечных выстрелов расстроили мятежников. Михельсон на них ударил. Они бежали, брося пушки и весь обоз... Их били и преследовали сорок вёрст... Пугачёв, в семидесяти верстах от места сражения, переплыл Волгу, выше Чернойрская, на четырёх лодках, и ушёл на луговую сторону, не более как с тридцатью казаками... Сие поражение было последним и решительным».

Ответ:

Последовательность событий	1	2	3	4	5	6	7
Отрывки							